



สังคมศึกษา ม.2

ภูมิศาสตร์

Geography

ทวีปยุโรป



Twig



ทวีปยุโรป



ที่ตั้ง อาณาเขต และขนาด

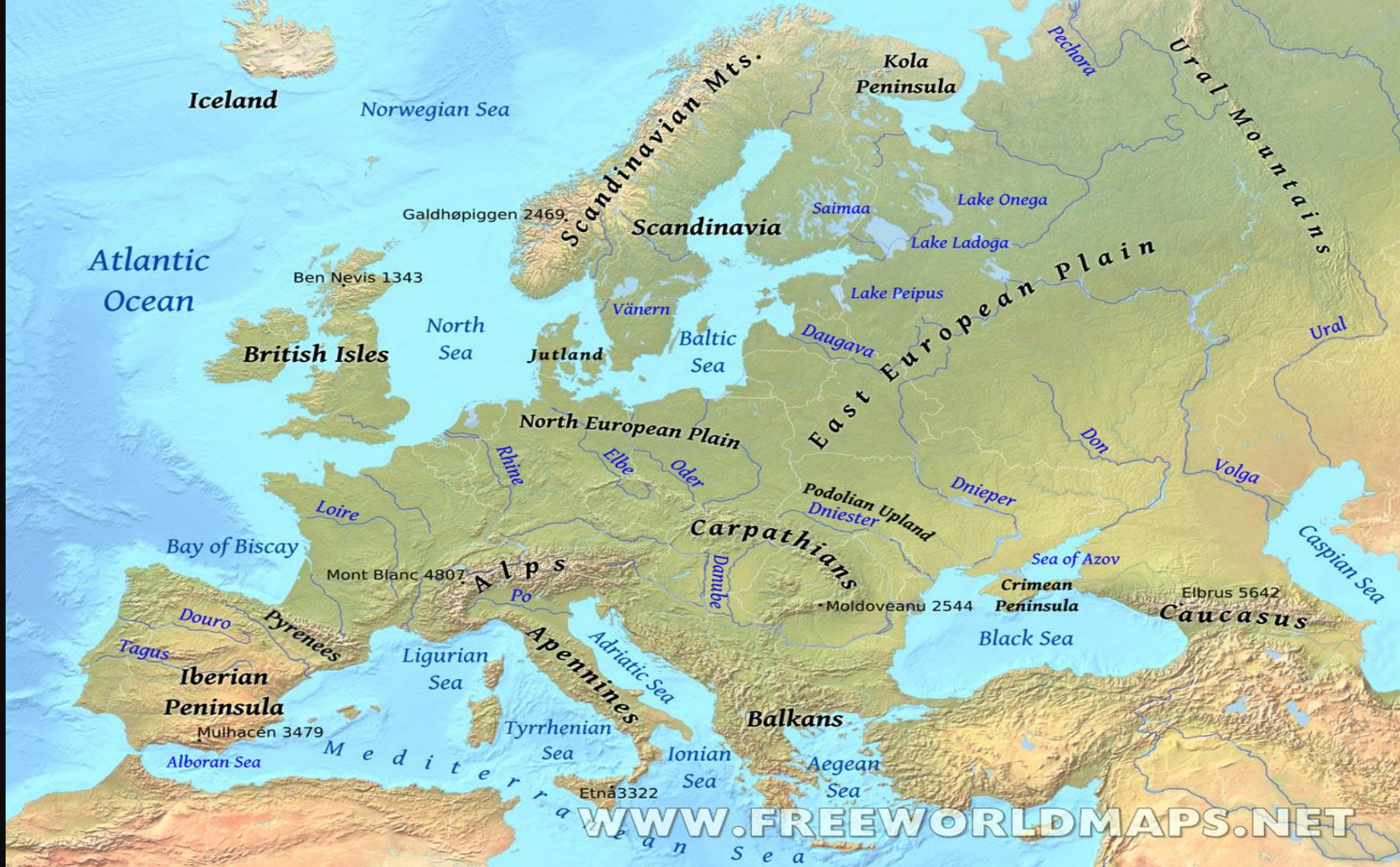
เป็นพื้นแผ่นดินเดียวกันกับทวีปเอเชีย คล้ายเป็นคาบสมุทรหนึ่งของทวีปเอเชีย จึงมีชื่อเรียกรวมกันว่า ยูเรเชีย (Eruasia) ทวีปยุโรปตั้งอยู่ก่อนไปทางขั้วโลกเหนือระหว่างละติจูดที่ 36 องศาเหนือ – 71 องศาเหนือ และระหว่างลองจิจูดที่ 9 องศาตะวันตก – 66 องศาตะวันออก อยู่เหนือเส้นทรอปิกออฟแคนเซอร์ (ละติจูดที่ 23 องศา 30 ลิปดาเหนือ)

- จุดเหนือสุดอยู่ที่แหลมนอร์ทเคป ประเทศนอร์เวย์
- จุดใต้สุดอยู่ที่เกาะครีต ประเทศกรีซ / แหลมตารีฟา(สเปน)
- จุดตะวันตกสุดอยู่ที่บริเวณประเทศไอซ์แลนด์
- จุดตะวันออกสุดอยู่ที่บริเวณเทือกเขายูรัลประเทศรัสเซีย

พื้นที่ส่วนใหญ่ของทวีปจะต่อเนื่องจากพื้นน้ำ ยกเว้น

ทางด้านตะวันออกเท่านั้นที่ต่อเนื่องเป็นผืนแผ่นดินเดียวกันกับ

ทวีปเอเชีย



ทิศเหนือ

อาณาเขต

ติดต่อกับมหาสมุทรอาร์กติก ทะเลแบเร็นตส์ ทะเลคารา และ

ทะเลขาว

ทิศตะวันออก

ติดต่อกับทวีปเอเชีย (มีเทือกเขายูรัล แม่น้ำยูรัล เทือกเขาคอเคซัส และทะเลแคสเปียนเป็นแนวกั้นอาณาเขต) ทำให้มี 2 ประเทศที่มีดินแดนตั้งอยู่ในทวีปยุโรปและทวีปเอเชียคือ รัสเซียและตุรกี

ทศใต้

ติดต่อกับทะเลเมดิเตอร์เรเนียน ทะเลดำ ทะเล

ไอโอเนียน

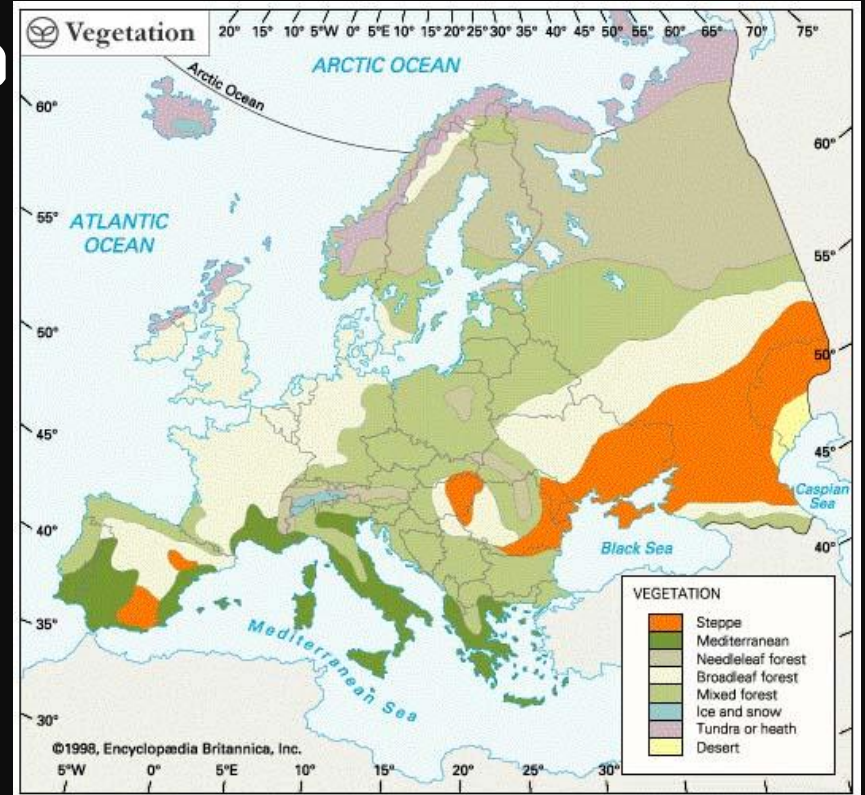
ทศตะวันตก

ติดต่อกับมหาสมุทรแอตแลนติก ทะเลนอร์วี-

เจียน อ่าวบิสเคย์และทะเลเหนือ

ขนาด

ยุโรปเป็นทวีปที่มีขนาดเล็ก
เป็นอันดับ 2 รองจากทวีป
ออสเตรเลีย มีเนื้อที่ทั้งหมด
ประมาณ 10.35 ล้านตาราง
กิโลเมตร เป็นทวีปที่มีพื้นแผ่นดิน
ติดต่อกันเป็นผืนเดียวกับทวีปเอเชีย





ยุโรปเป็นทวีปที่มีพื้นที่
ทั้งหมดอยู่ในซีกโลกเหนือหรือ
ค่อนข้างขั้วโลกเหนือ มีทะเล
ล้อมเกือบรอบและมีชายฝั่งทะเลที่
เว้าแหว่งมาก ทำให้ได้รับอิทธิพล
ทะเลเกือบทั้งหมด จึงเป็นทวีปที่
ไม่มีลักษณะแห้งแล้งแบบ
ทะเลทราย

ลักษณะภูมิประเทศ

ทวีปยุโรป แบ่งเขตภูมิประเทศออกเป็น 4 เขต

1. เขตที่ราบ
2. เขตเทือกเขาหินเก่า
3. เขตที่ราบสูง
4. เขตเทือกเขาหินใหม่

เขตที่ราบตอนกลางของทวีป

เป็นเขตที่ราบกว้างใหญ่ เป็นแนวขนานกับชายฝั่ง
ทะเลบอลติก จากตะวันออกไปจนถึงชายฝั่งมหาสมุทร
แอตแลนติกทางตะวันตก เป็นเขตที่ตั้งถิ่นฐานของ
ประชาชน และเป็นพื้นที่เกษตร ส่วนใหญ่เป็นเมืองสำคัญ

1. เขตที่ราบลุ่มแม่น้ำ เป็นเขตที่อุดมสมบูรณ์ มีความสำคัญ

ทางด้านเศรษฐกิจของทวีปยุโรป

2. เขตที่ราบชายฝั่งทะเลบอลติก เป็นที่ราบหินเก่า อยู่ทางตอน

เหนือของทวีปยุโรป ในเขตประเทศนอร์เวย์ สวีเดน ฟินแลนด์

โปแลนด์

- เขตเทือกเขาหินเก่า มีการกัดเซาะของธารน้ำแข็งเกิดเป็น

ทะเลสาบ ส่วนบริเวณชายฝั่งทะเลที่ถูกกัดเซาะจะเป็นร่องลึกเข้าไปใน

แผ่นดินสูงขึ้น หรือระหว่างหน้าผาสูง เรียกว่า ฟยอร์ด (Fjord)



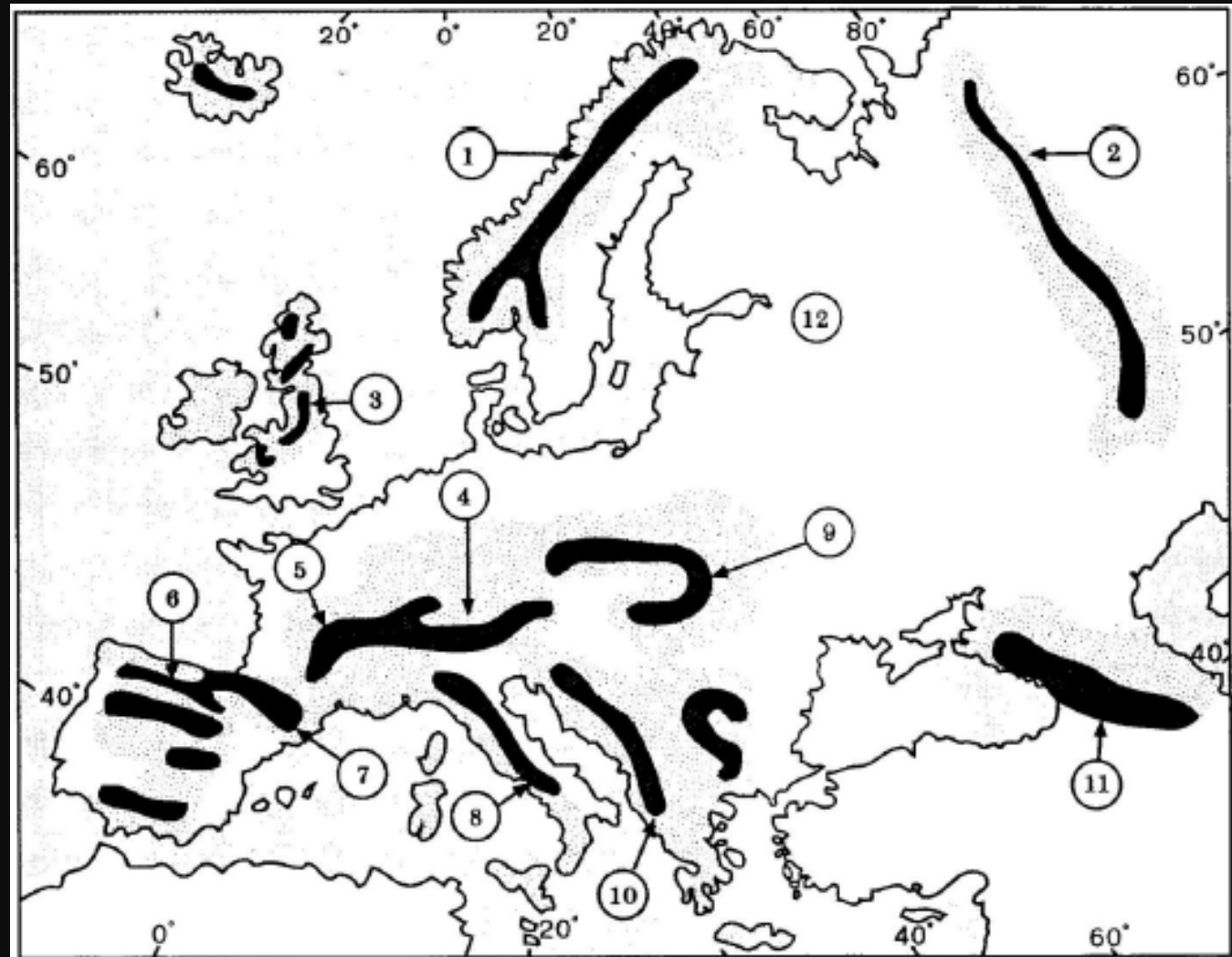


- **เขตที่ราบสูง** ในบริเวณตอนกลางทวีปทางตะวันตกไป ตะวันออก เกิดจากการสึกกร่อนของภูเขาสูงที่ถูกลดระดับซึ่ง เกิดขึ้นเองตามธรรมชาติ ตั้งแต่ที่ราบสูงไอบีเรีย จนถึงที่ราบสูง โบฮีเมียทางตะวันออก ที่ราบสูงตอนกลางจะอุดมไปด้วยถ่าน หิน เหล็ก

- **เขตเทือกเขาหินใหม่** อยู่ทางตอนใต้ของทวีป (เทือกเขา พিরนัส, เทือกเขาแอลป์, เทือกเขาเอเพนไนน์, เทือกเขาคาร์เพ เทียน, เทือกเขาคอเคซัส)

Europe's Physical Geography

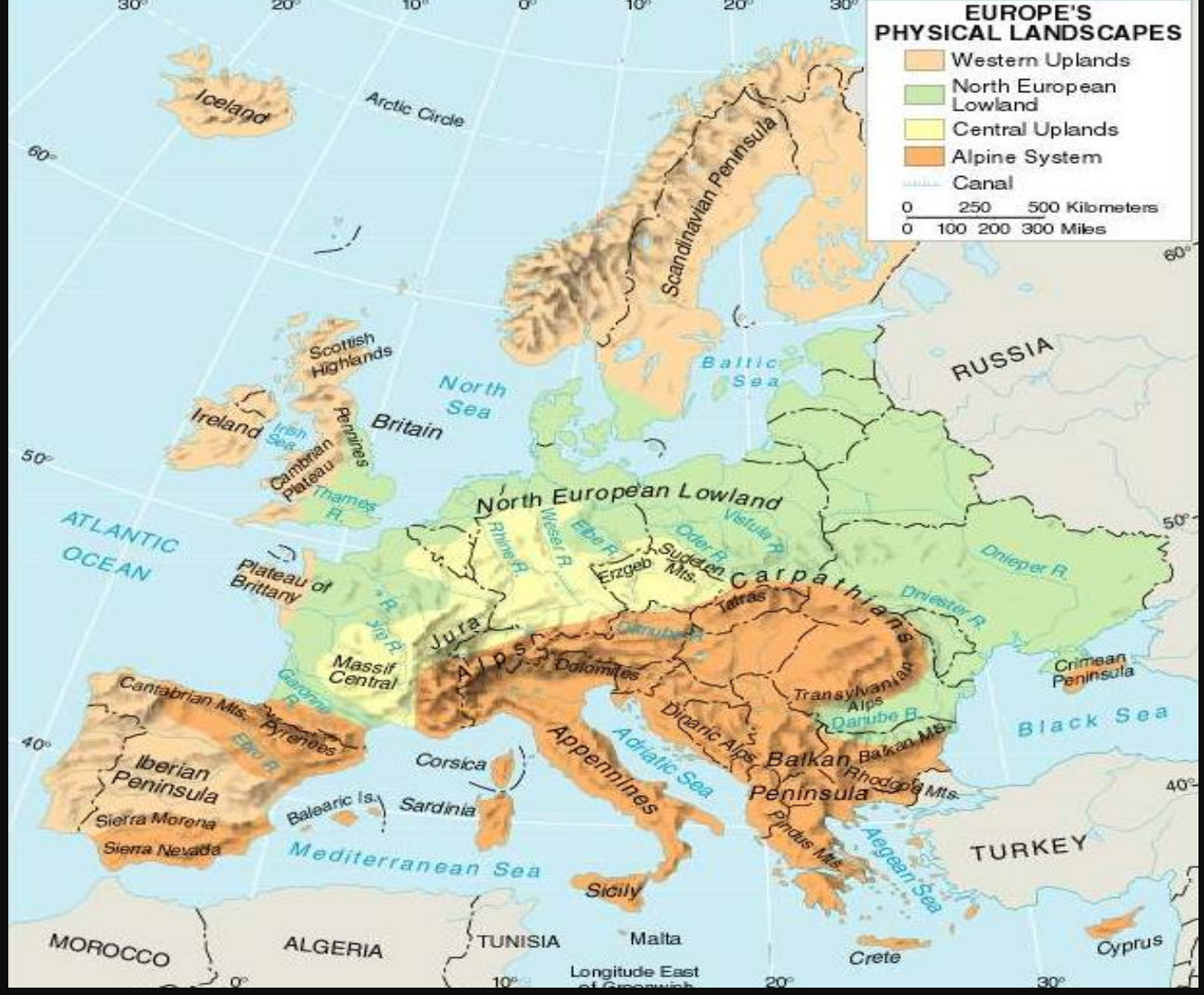


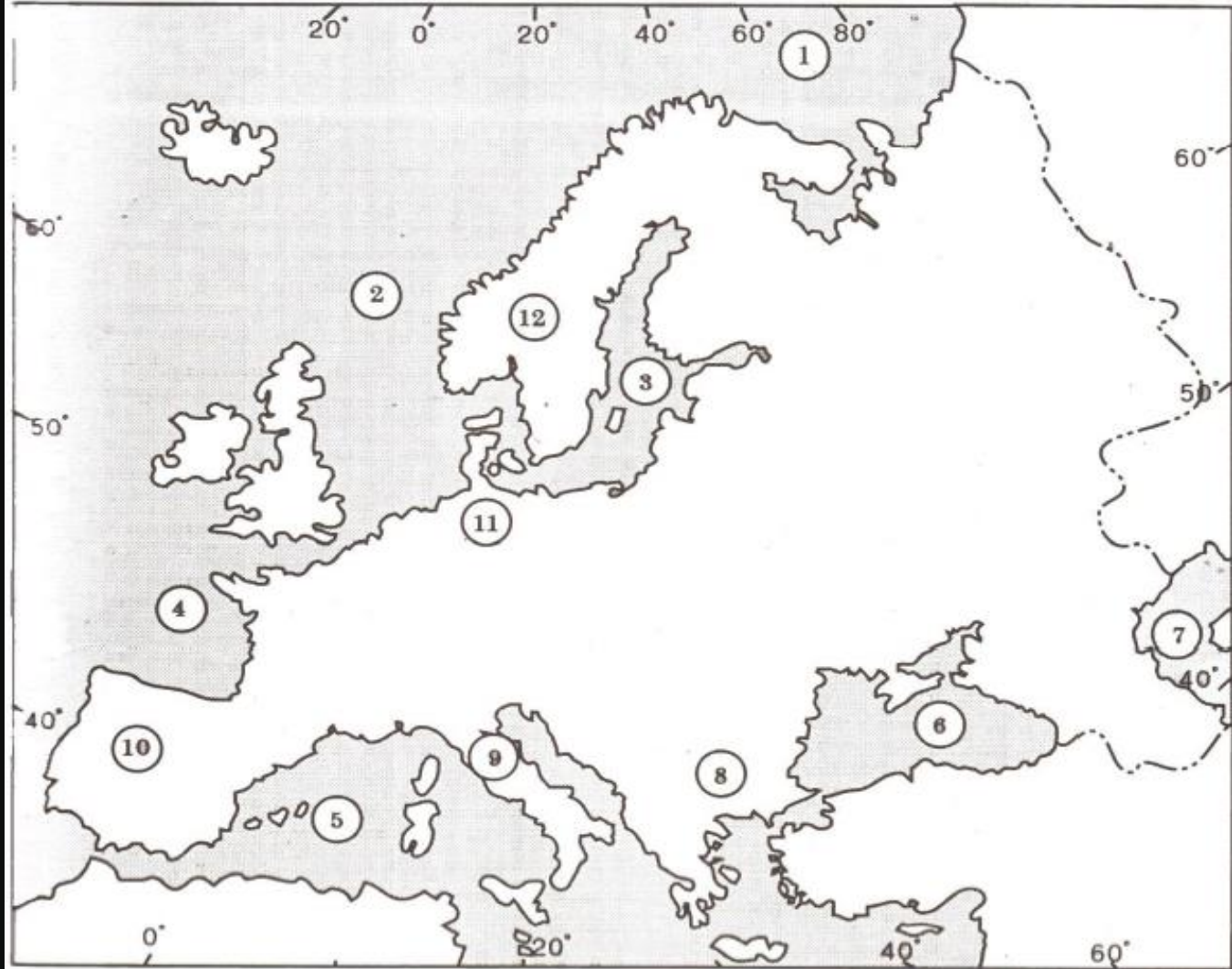


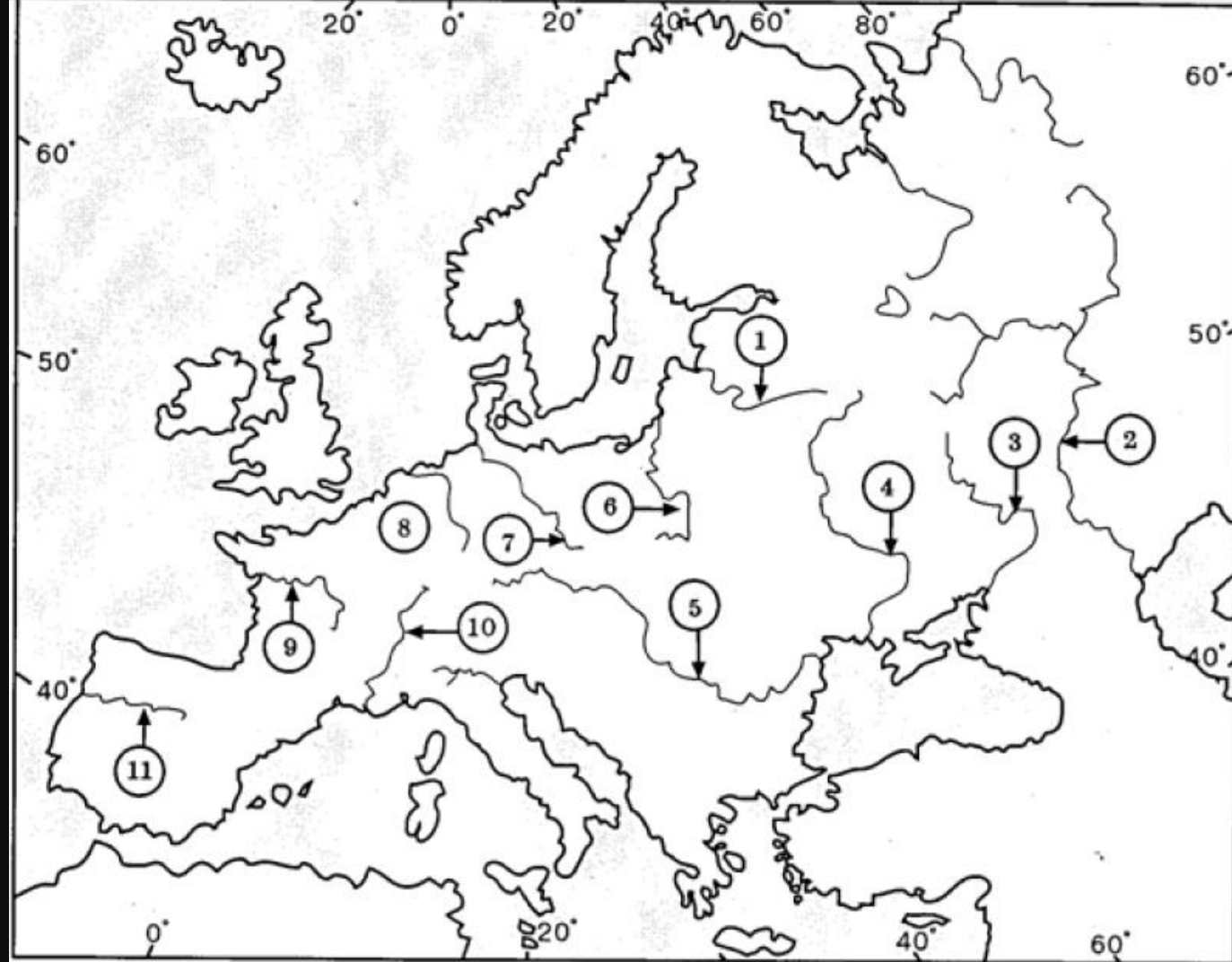
EUROPE'S PHYSICAL LANDSCAPES

- Western Uplands
- North European Lowland
- Central Uplands
- Alpine System
- Canal

0 250 500 Kilometers
0 100 200 300 Miles







EUROPE

Major Rivers



1. จงบอกพิกัดที่ตั้งของทวีปยุโรป

ระหว่างละติจูด 36 องศา 1 ลิปดาเหนือ ถึง 71 องศา
10 ลิปดาเหนือ ระหว่างลองจิจูด 66 องศา
ตะวันออก ถึง 9 องศา 30 ลิปดาตะวันตก

2. อาณาเขตของทวีปยุโรป

ทิศเหนือ	มหาสมุทรอาร์กติก
ทิศใต้	ทะเลเมดิเตอร์เรเนียน
ทิศตะวันออก	เป็นพื้นแผ่นดินเดียวกับทวีปเอเชีย
ทิศตะวันตก	มหาสมุทรแอตแลนติก

3. พรมแดนธรรมชาติระหว่างทวีปยุโรปกับทวีป

เอเชีย คืออะไร

เทือกเขาอูรัล แม่น้ำอูรัล ทะเลสาบแคสเปียน

ทะเลดำ และเทือกเขาคอเคซัส

4. ประเทศที่มีดินแดนอยู่ทั้งในทวีปยุโรป และทวีป

เอเชีย คือ

ประเทศรัสเซีย และตุรกี

5. ดินแดนที่เป็นที่ตั้งของทวีปยุโรปกับเอเชีย

รวมกัน เรียกว่าอะไร

ยูเรเชีย

6. ทะเลที่เชื่อมโยงทวีปยุโรป เอเชีย และแอฟริกา
คือ ทะเลใด

ทะเลเมดิเตอร์เรเนียน

7. น่านน้ำทางตอนเหนือของทวีปยุโรป ได้แก่

ทะเลขาว ทะเลคารา และทะเลแบเรนต์

8. น่านน้ำทางตอนใต้ของทวีปยุโรป คืออะไร

ทะเลดำ ทะเลเมดิเตอร์เรเนียน

9. น่านน้ำทางตะวันตกของทวีปยุโรป คืออะไร

ทะเลนอร์วีเจียน ทะเลเหนือ ทะเลไอริช

และทะเลบอลติก

10. คาบสมุทรที่สำคัญทางตอนเหนือของทวีปยุโรป

คืออะไร

คาบสมุทรสแกนดิเนเวีย คาบสมุทรจัตแลนด์

คาบสมุทรโคคา

11. คาบสมุทรที่สำคัญทางตอนใต้ของทวีปยุโรป

คาบสมุทรอิตาลี คาบสมุทรบอลข่าน

คาบสมุทรไครเมีย

12. คาบสมุทรที่สำคัญทางตะวันตกของทวีปยุโรป

คาบสมุทรไอบีเรีย

13. ช่องแคบยิบรอลตา กั้นระหว่าง

มหาสมุทรแอตแลนติก กับ ทะเลเมดิเตอร์เรเนียน

ห้องคาบบอสฟอรัส กั้นระหว่าง

ทะเลดำ กับทะเลมาร์มะรา

ห้องคาบดาร์คะเนลล์ กั้นระหว่าง

ทะเลมาร์มะรา กับทะเลอีเจียน

14. เกาะสำคัญทางตะวันตกของทวีปยุโรป ได้แก่

เกาะบริเตนใหญ่ เกาะไอร์แลนด์ เกาะไอซ์แลนด์

15. คาบสมุทรที่มีปรากฏการณ์ “พระอาทิตย์เที่ยงคืน” คืออะไร

คาบสมุทรสแกนดิเนเวีย

16. เกาะใดในทวีปยุโรปที่ตั้งอยู่ห่างจากภาคพื้นทวีปมากที่สุด

เกาะไอซ์แลนด์

17. อ่าวที่ใหญ่ที่สุดของทวีปยุโรป คืออะไร

อ่าวบิสเคย์

ปัจจัยที่มีอิทธิพลต่อภูมิอากาศของทวีปยุโรป

1. **ทำเลที่ตั้ง** ตั้งอยู่ระหว่างละติจูดที่ 36 – 71 องศาเหนือ
2. **ลมประจำ** พัดจากทางตะวันตกเฉียงใต้ผ่านมหาสมุทรแอตแลนติกมาขึ้นฝั่ง ทำให้มีฝนมากด้านตะวันตกของทวีป
3. **การวางตัวของเทือกเขา** ในแนวทิศทางตะวันตกไปตะวันออก

4. ความใกล้ชิดไกลจากทะเล ยุโรปมีที่ตั้งติดกับทะเล

และมหาสมุทร 3 ด้าน

5. กระแสน้ำในมหาสมุทร กระแสน้ำในมหาสมุทร

ชายฝั่งตะวันตก และตะวันตกเฉียงเหนือของทวีปยุโรปมี

กระแสน้ำแอตแลนติกเหนือ ซึ่งเป็นกระแสน้ำอุ่นไหล

เข้าสู่บริเวณชายฝั่ง ทำให้สหราชอาณาจักร และนอร์เวย์มี

อากาศอบอุ่นตลอดปี

1. ภูมิภาคแบบทุ่งหญ้ากึ่งทะเลทราย

เขตอบอุ่น (BSk) เป็นเขตภูมิภาคที่
ค่อนข้างแห้งแล้ง พืชพรรณธรรมชาติ เป็น
แบบหญ้าสั้น หรือทุ่งหญ้าสเตปป์ ไม้พุ่มเตี้ย
อยู่ทางตอนใต้ของสเปน, ยูเครน, รัสเซีย

ทุ่งหญ้าสเตปป์



2. ภูมิอากาศแบบเมดิเตอร์เรเนียน (Csa, Csb)

ภูมิอากาศแบบร้อน และมีแสงจัดในฤดูร้อน ส่วนฤดูหนาวมีอากาศอบอุ่น และมีฝนตก พืชที่เจริญเติบโตได้ดีคือผลไม้รสเปรี้ยว เช่น ส้ม องุ่น มะกอก พืชชนิดอื่น ๆ จะเป็นไม้พุ่มหนา พืชไม้แคระ

3. ภูมิอากาศแบบอบอุ่นชื้น (Cfa, Cfb, Cfc)

เป็นบริเวณที่มีความชื้นสูง ฤดูหนาวอากาศเย็นมีฝนตกตลอดปี เพราะได้รับอิทธิพลจากทะเล และมหาสมุทร ไม่มีฤดูแล้ง ได้แก่ สหราชอาณาจักร นอร์เวย์ ทางใต้ของเกาะไอซ์แลนด์ และสวีเดน เบลเยียม สโลวาเกีย ฮังการี ฯลฯ พืชพรรณธรรมชาติ เป็นป่าผสม ระหว่างป่าผลัดใบกับไม่ผลัดใบ


4. ภูมิอากาศแบบหนาวชื้นภาคพื้นทวีป (Dfa, Dfb, Dfc)

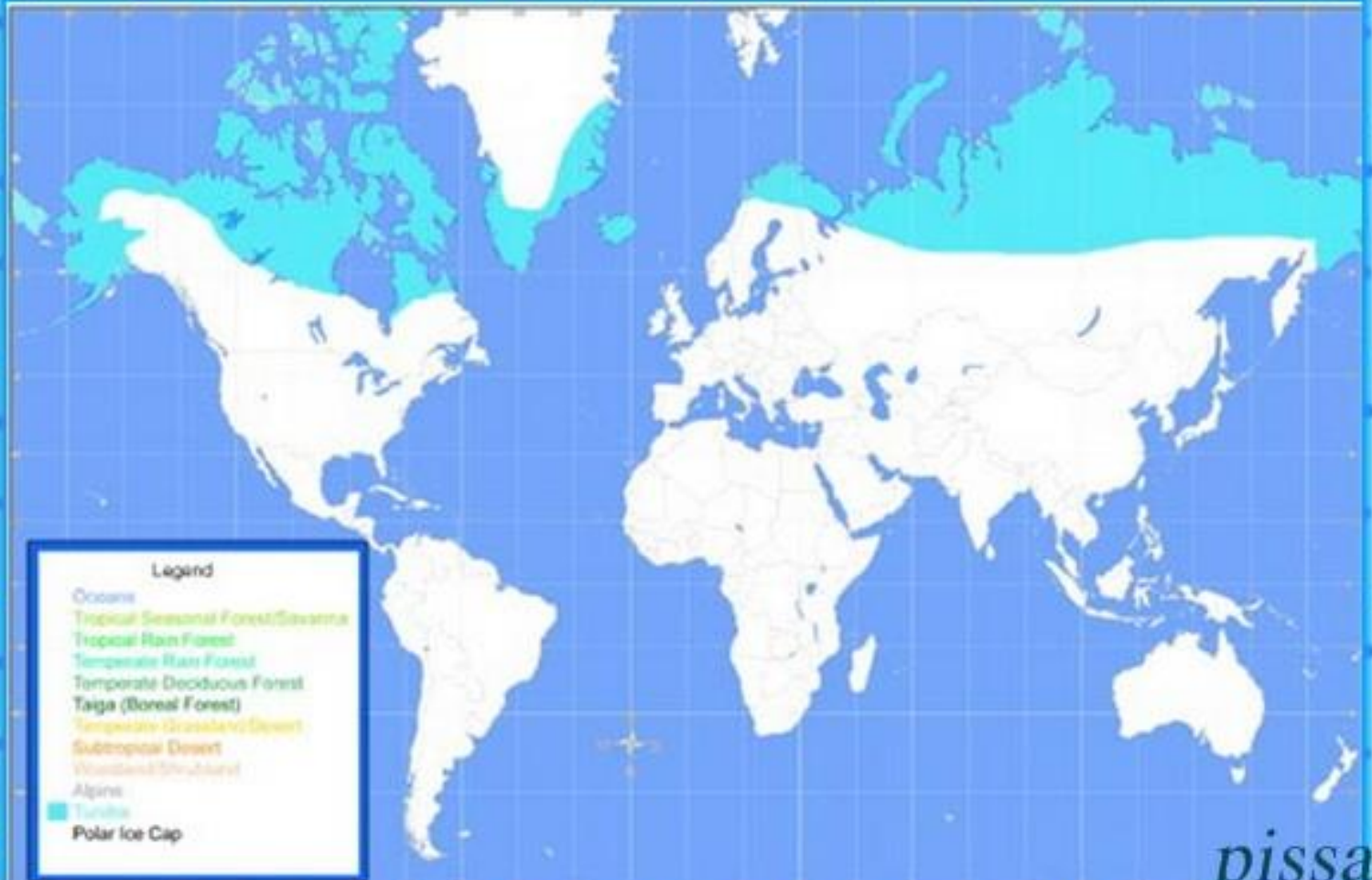
เนื่องจากเป็นบริเวณที่มีมวลอากาศเย็นปกคลุมเป็นเวลานาน จึงมีช่วงฤดูร้อนสั้น ได้รับอิทธิพลจากลมที่พัดมาจากมหาสมุทรแอตแลนติก จึงทำให้มีความชื้นในอากาศสูง ปรากฏอยู่ในบริเวณทางเหนือและพื้นที่ตอนในของทวีปยุโรป ได้แก่ นอร์เวย์ สวีเดน ลัตเวีย เบลารุส ยูเครน พื้นที่ส่วนใหญ่ของรัสเซีย ฯลฯ

5. ภูมิอากาศแบบเขตอบอุ่น หรือแบบทุนดรา (E)

มีอุณหภูมิต่ำตลอดปี และมีฤดูหนาวยาวนาน ไม่มีฤดูร้อนเลย พืชพรรณธรรมชาติ เช่น มอสส์ ไคเคน ปราบกฐอยู่บริเวณทางเหนือของยุโรป ได้แก่ เกาะไอซ์แลนด์ นอร์เวย์ สวีเดน ฟินแลนด์ รัสเซีย

เทือกเขาแอลป์ ประเทศสวิตเซอร์แลนด์



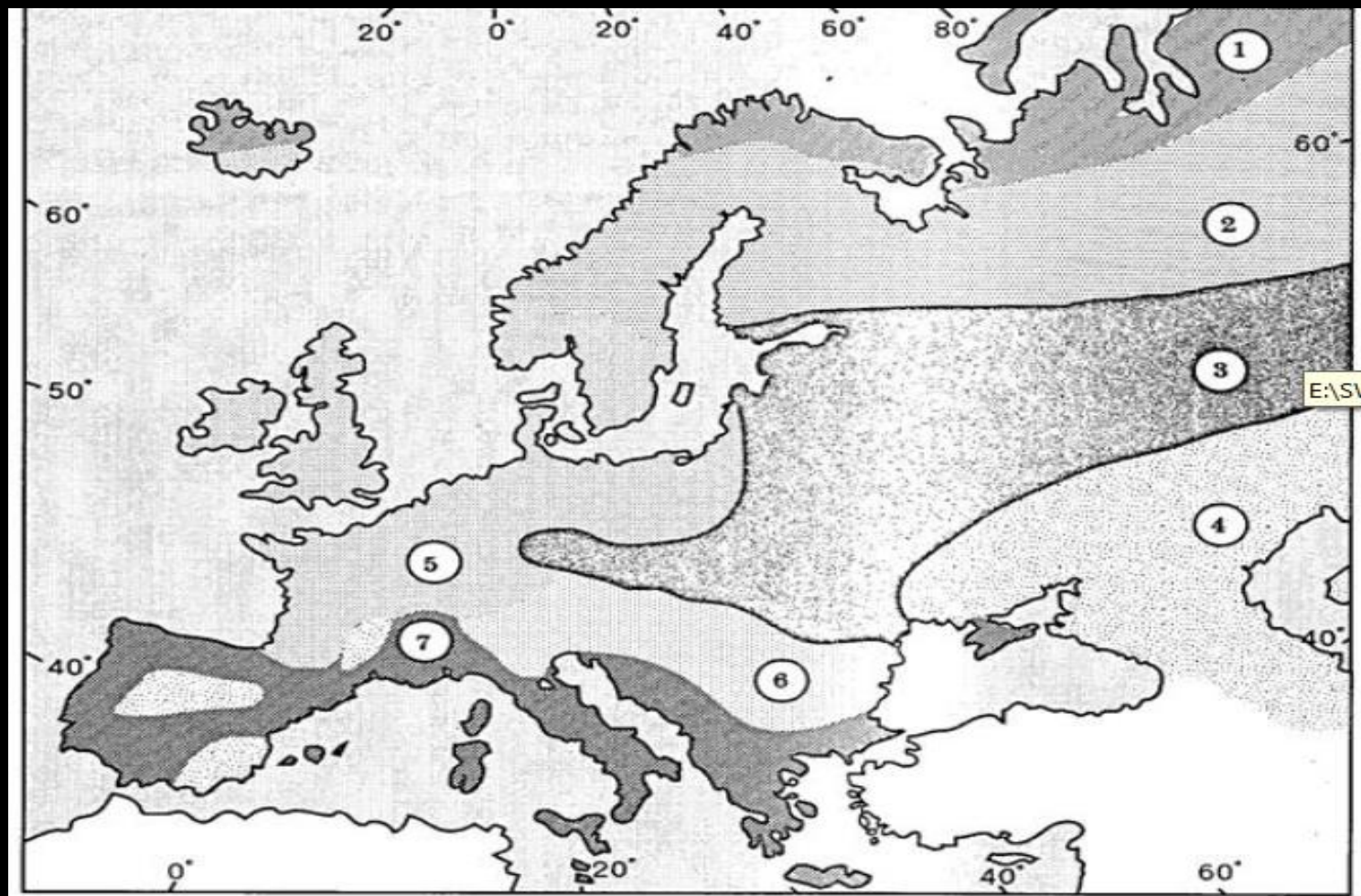


- Legend**
- Oceans
 - Tropical Seasonal Forest/Savanna
 - Tropical Rain Forest
 - Temperate Rain Forest
 - Temperate Deciduous Forest
 - Taiga (Boreal Forest)
 - Temperate Grasslands/Desert
 - Subtropical Desert
 - Woodland/Shrubland
 - Alpine
 - Tundra
 - Polar Ice Cap

pissa

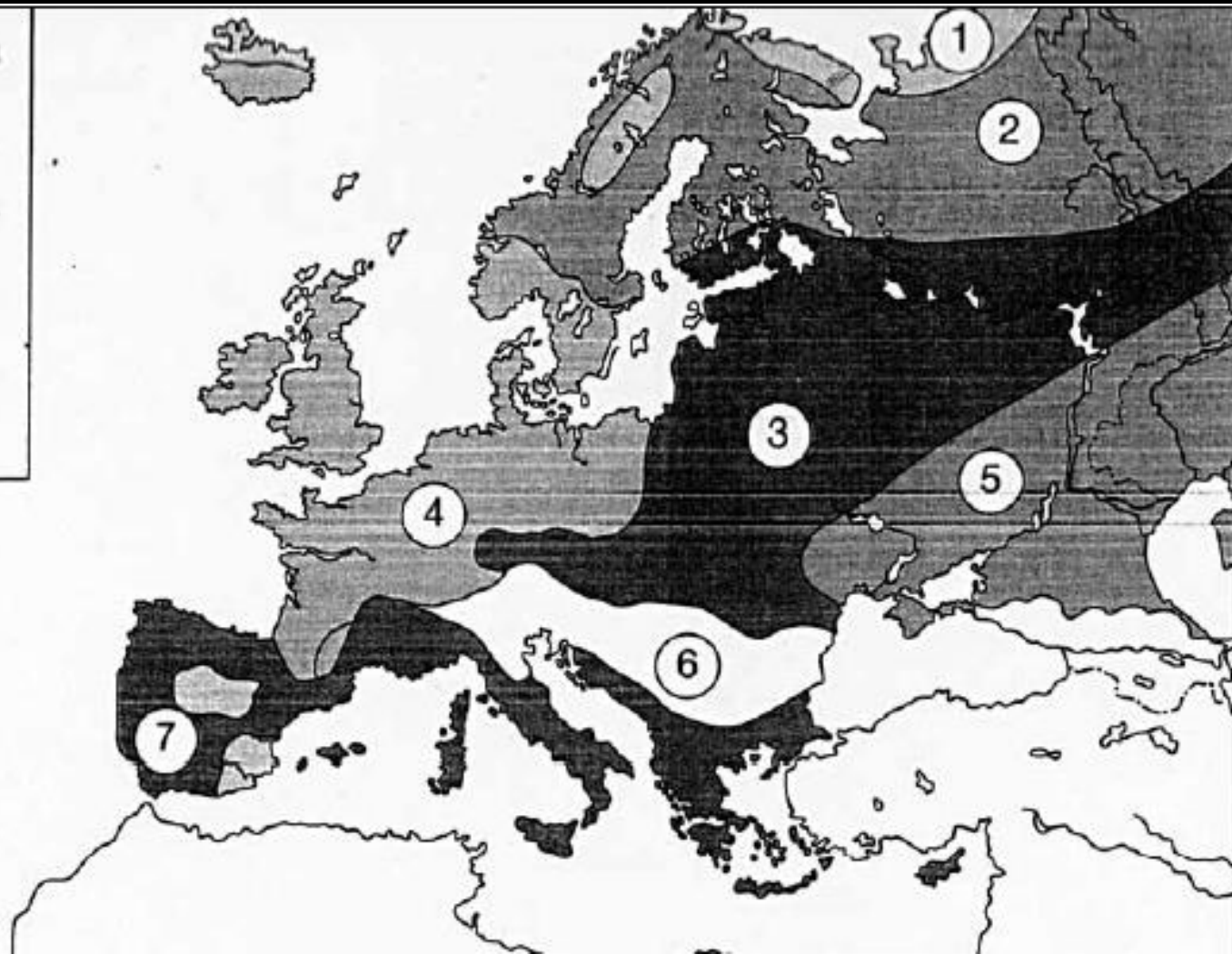
6. ภูมิอากาศแบบที่สูง หรือแบบภูเขา (H)

เป็นภูมิอากาศที่เกิดขึ้นบนที่สูงหรือบนภูเขา ความแตกต่างที่สำคัญ คือ อากาศบนที่สูงจะเบาบาง ความกดอากาศ และอุณหภูมิลดลง ทั้งนี้ขึ้นอยู่กับที่ตั้งตามละติจูด ความสูงของพื้นที่ และแสงอาทิตย์ส่องถึง เช่น ในประเทศออสเตรเลีย สวิตเซอร์แลนด์





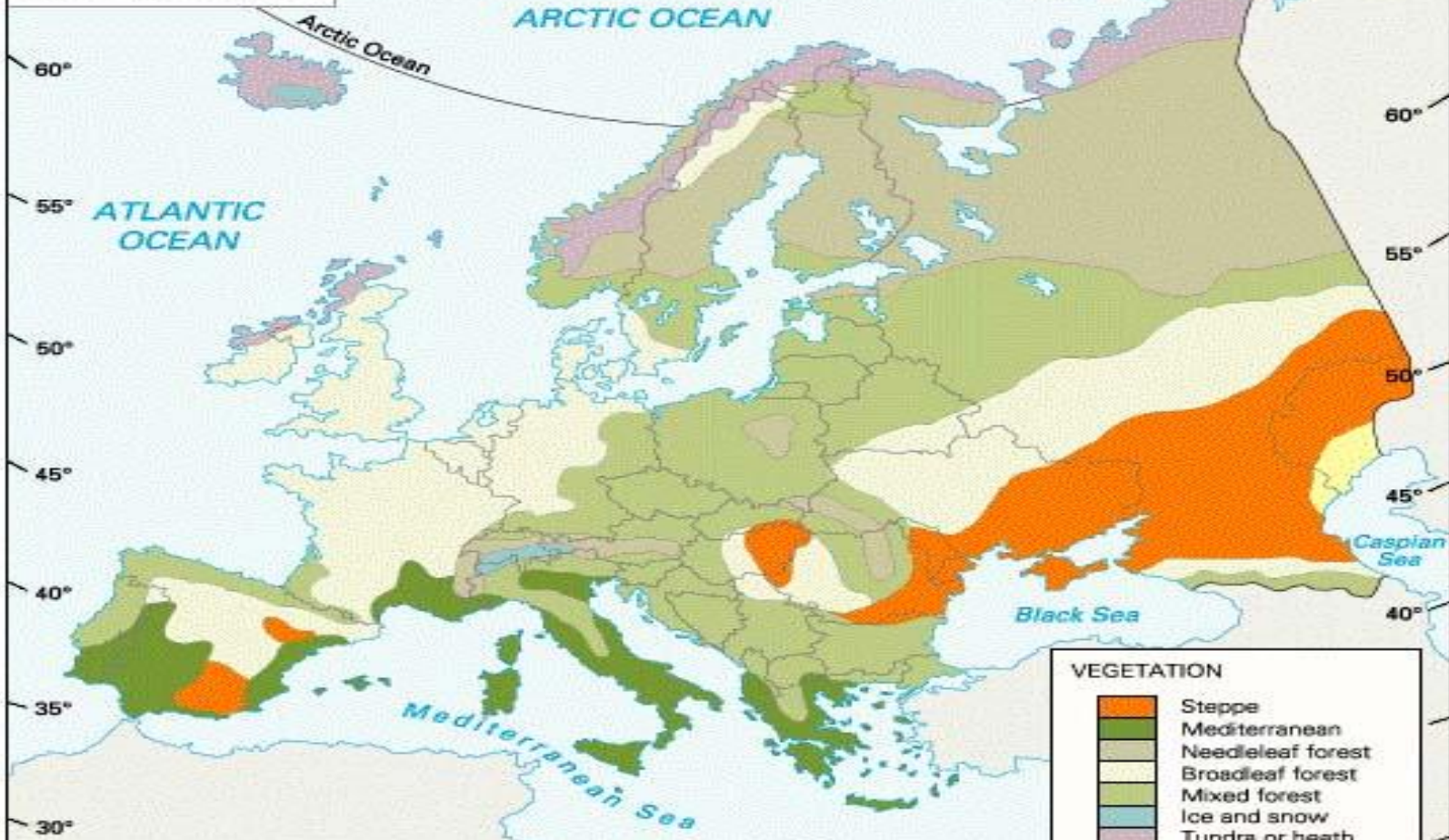
- แบบเมดิเตอร์เรเนียน
- อบอุ่นชื้น
- ทุ่งหญ้ากึ่งทะเลทราย
- ภาคพื้นสมุทรชายฝั่ง-
ตะวันตก
- ชั้นภาคพื้นทวีป
- แบบไทกา
- แบบทุนดรา













Vegetation

20° 15° 10° 5°W 0° 5°E 10° 15° 20° 25° 30° 35° 40° 45° 50° 55° 60° 65° 70° 75°



VEGETATION	
	Steppe
	Mediterranean
	Needleleaf forest
	Broadleaf forest
	Mixed forest
	Ice and snow
	Tundra or heath
	Desert

©1998, Encyclopædia Britannica, Inc.

5°W 0° 5°E 10° 15° 20° 25° 30°

ทรัพยากรธรรมชาติ

ดิน มีคุณภาพสูง มีการใช้สารอินทรีย์มากกว่า
การใช้สารเคมี ดินที่มีความสำคัญของทวีปยุโรป คือ
ดินมอลติซอลล์ หรือดินทุ่งหญ้า พืชที่เหมาะสมแก่การ
ปลูก เช่น ข้าวบาร์เลย์ ข้าวโอ๊ต ข้าวไรน์

ทุ่งข้าวบาร์เลย์



แหล่งน้ำ



ทะเลที่สำคัญ ได้แก่

ทะเลแคสเปียน เป็นทะเลปิดที่ใหญ่ที่สุดในโลก

โลก

ทะเลดำ ตั้งอยู่ระหว่างทวีปยุโรปกับเอเชีย

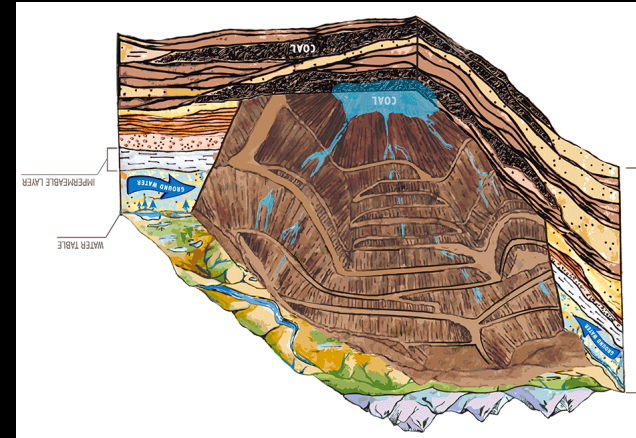
แร่และพลังงาน

1. เหล็ก แหล่งที่สำคัญคือ ใกล้เคียง

เทือกเขาอูราล รัสเซียเป็นประเทศที่มีแร่เหล็กมากที่สุด ปัจจุบันเหล็กลดน้อยลงมาก

2. ถ่านหิน แหล่งถ่านหินขนาดใหญ่

พบในประเทศเยอรมนี สหราชอาณาจักร ยูเครน เบลเยียม



3. น้ำมันดิบ และก๊าซธรรมชาติ รัสเซียมี

ปริมาณสำรองมากที่สุดในโลก ส่วนมากพบทางด้าน
ตะวันตกของเทือกเขาอูรัล บัดแกเรียมีน้ำมันดิบและ
ก๊าซธรรมชาติมาก

ข้อ 1 ลักษณะภูมิประเทศของโลกในข้อใด เรียงจากระดับสูงไปหาต่ำได้อย่างถูกต้อง

1. ทิวเขา แม่น้ำ ทะเล
2. ชายฝั่ง ที่ราบ ทิวเขา
3. ทิวเขา ที่ราบสูง ที่ราบ
4. หมู่เกาะ ทะเลสาบ แม่น้ำ

ข้อ 2 ภูมิอากาศของโลกมีความแตกต่างกันในแต่ละ

ภูมิภาค เป็นผลมาจากสาเหตุหลายประการ ยกเว้น ข้อใด

1. ตำแหน่งที่ตั้งตามละติจูด
2. กระแสน้ำในมหาสมุทร
3. ระบบทิศทางของลมประจำถิ่น
4. พืชพรรณธรรมชาติประจำถิ่น

ข้อ 3 ทุกข้อกล่าวถึงทำเลที่ตั้งของยุโรปได้ถูกต้อง ยกเว้น ข้อใด

1. ตั้งอยู่บริเวณเส้นศูนย์สูตร

2. ตั้งอยู่ในซีกโลกเหนือทั้งหมด

3. ติดต่อกับมหาสมุทรแอตแลนติก

4. ทางใต้ติดต่อกับทะเลเมดิเตอร์เรเนียนและทวีป

แอฟริกา

ข้อ 4 ประเทศกับเมืองหลวงในทวีปยุโรปข้อใดที่ ไม่ สัมพันธ์กัน

1. ฝรั่งเศส : ปารีส

2. เยอรมนี : เบอร์ลิน

3. ออสเตรีย : เวียนนา

4. เนเธอร์แลนด์ : รอตเตอร์ดัม

ข้อ 5 “ฟยอร์ด” ในเขตหินเก่าตอนเหนือของทวีปยุโรป สัมพันธ์กับข้อใด

1. ชายฝั่งประเทศนอร์เวย์
2. ทิวเขาบนเกาะไอซ์แลนด์
3. ป่าไม้ในประเทศฟินแลนด์
4. ที่ราบในประเทศเดนมาร์ก

ข้อ 6 ทิวเขาสูงในทวีปยุโรปซึ่งเป็นสถานที่ท่องเที่ยวที่
ได้รับความนิยมคือข้อใด

1. ทิวเขาแอลป์
2. ทิวเขาร็อกกี
3. ทิวเขาแอตลาส
4. ทิวเขาคิลิมันजारุ

ข้อ 7 ประเทศใดต่อไปนี้มีลักษณะภูมิประเทศเป็นเกาะขนาดใหญ่

1. สวีเดน
2. สวิตเซอร์แลนด์
3. สหราชอาณาจักร
4. สหพันธรัฐรัสเซีย

ข้อ 8 ภูมิอากาศของภูมิภาคยุโรปตะวันตกระหว่างฤดูร้อน
และฤดูหนาวจะแตกต่างกันเพียงเล็กน้อย เนื่องจากปัจจัย

หลายประการ ยกเว้น ข้อใด

1. อยู่ใกล้แม่น้ำขนาดใหญ่
2. อิทธิพลของลมประจำ
3. มีทิวเขาสูงล้อมรอบ
4. ภูมิประเทศเป็นคาบสมุทร

ข้อ 9 ภูมิประเทศแบบทิวเขาที่มียอดแหลม พยอร์ด ของทวีปยุโรปเกิดจากระบวนการใด

1. การทับถมของดินลมหอบ
2. การกัดกร่อนจากธารน้ำแข็ง
3. การกัดเซาะจากแม่น้ำลำธาร
4. การดันตัวของหินหนืดร้อนใต้เปลือกโลก

ข้อ 10 ชาวรัสเซียบนเขตไซบีเรียต้องสวมใส่เสื้อผ่าน
สัตว์หนาๆ เพราะมีภูมิอากาศแบบใด

1. ขั้วโลก
2. อบอุ่นชื้น
3. ชื้นภาคพื้นทวีป
4. เมดิเตอร์เรเนียน

ข้อ 11 แหล่งทำการประมงที่สำคัญของทวีปยุโรปคือข้อใด

1. อ่าวเอเดิน
2. ทะเลเหนือ
3. คูริวแบงก์
4. ทะเลแคสเปียน

สังคมศึกษา ม.2

สาระที่ 5 ภูมิศาสตร์



ลักษณะของประชากรของทวีปยุโรป



บริเวณที่ประชากรอาศัยอยู่หนาแน่นที่สุดในเขต
เกษตรกรรมและอุตสาหกรรมที่สำคัญ ได้แก่ บริเวณ
ภาคเหนือของฝรั่งเศส ภาคใต้ของอังกฤษ เบลเยียม
เนเธอร์แลนด์ ภาคกลางของเยอรมนี โปแลนด์ และรัสเซีย
บริเวณที่ประชากรอาศัยอยู่เบาบางที่สุด คาบสมุทรและ
ภาคเหนือของรัสเซีย

การกระจายและความหนาแน่นของประชากร

- โมนาโก เป็นประเทศขนาดเล็กที่มีความหนาแน่นประชากรมากที่สุด
- ประเทศที่มีประชากรหนาแน่น คือ เนเธอร์แลนด์ (398 คนต่อ ตร.กม.) เบลเยียม (354 คนตร.กม.), สหราชอาณาจักร (255 คนต่อ ตร.กม.)

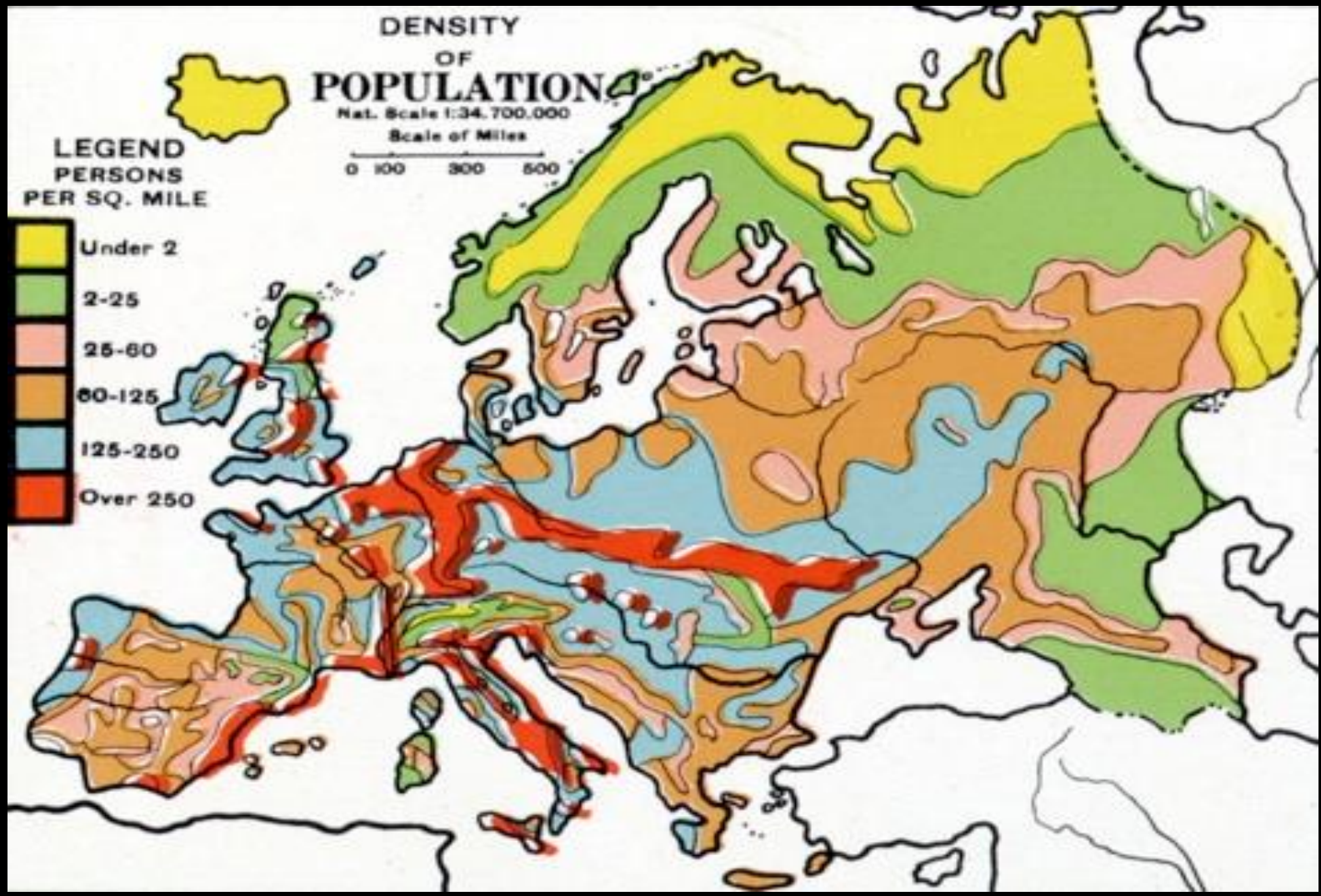
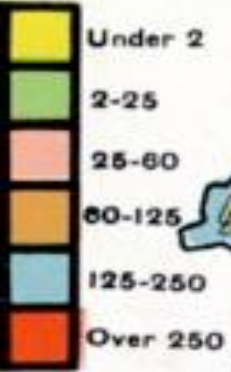
- บริเวณที่มีประชากรอาศัยหนาแน่นมาก ส่วนใหญ่อยู่ในบริเวณภูมิภาคยุโรปตะวันตก ยุโรปใต้ และบางส่วนของยุโรปตะวันออก เนื่องจากเป็นที่ราบ
- เมืองใหญ่ ที่มีประชากรอาศัยอย่างหนาแน่น เช่น กรุงปารีส กรุงลอนดอน กรุงอัมสเตอร์ดัม กรุงโรม กรุงเบอร์ลิน

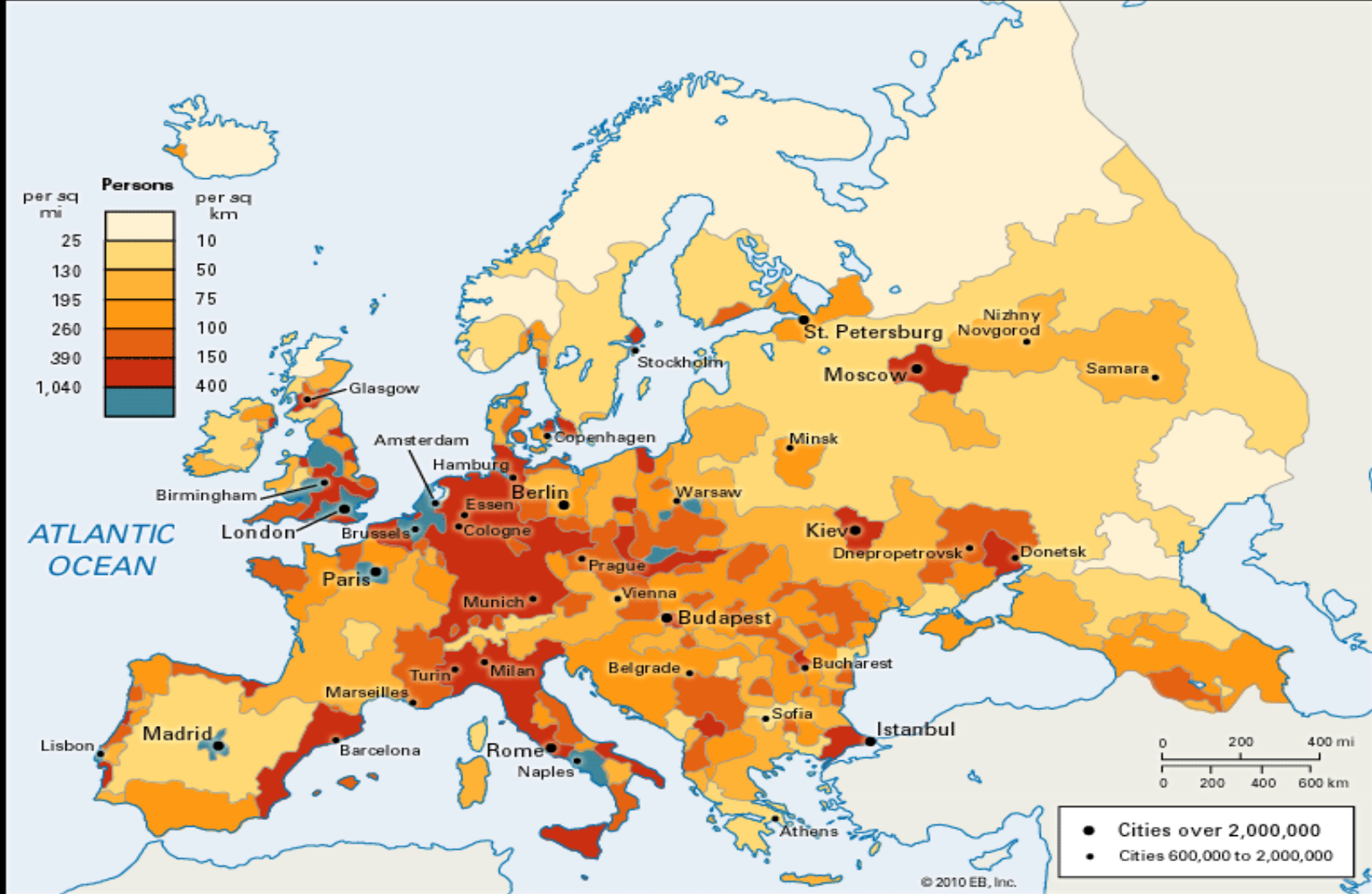
DENSITY OF POPULATION

Nat. Scale 1:34,700,000
Scale of Miles



LEGEND
PERSONS
PER SQ. MILE





Glasgow
Birmingham
London
Paris
Madrid
Barcelona
Rome
Naples

Amsterdam
Hamburg
Berlin
Essen
Cologne
Munich
Turin
Milan
Marseilles

Copenhagen
Stockholm
Warsaw
Prague
Vienna
Budapest
Belgrade
Sofia

St. Petersburg
Moscow
Minsk
Kiev
Dnepropetrovsk
Donetsk
Bucharest
Istanbul
Athens

Nizhny Novgorod
Samara

ลักษณะทั่วไปทางประชากรของทวีปยุโรป

ประชากรส่วนใหญ่ของทวีปยุโรปเป็นชนผิวขาว

จมูกโด่ง รูปร่างสูงใหญ่ เป็นกลุ่มชาติพันธุ์คอเคซอยด์ ซึ่ง
เป็นชนดั้งเดิมของทวีปนี้ประชากรโดย ประชากรของทวีป
ยุโรปประกอบด้วยหลายเชื้อชาติ เชื้อชาติ เป็นกลุ่มผิวขาว
แบ่งออกได้เป็น 3 กลุ่ม

1.กลุ่มนอร์ดิก เป็นกลุ่มคนผิว

ขาวที่อาศัยอยู่ทางตะวันตกเฉียงเหนือ
ของยุโรป โดยเฉพาะประเทศรอบๆ
ทะเลเหนือ มีรูปร่างสูงใหญ่ ผมสีทอง
นัยน์ตาสีฟ้า กะโหลกศีรษะยาวเทศ
เช่น ประเทศนอร์เวย์ สวีเดน
เดนมาร์ก อังกฤษ เป็นต้น




2. กลุ่มเมดิเตอร์เรเนียน

เป็นกลุ่มที่อาศัยอยู่ทางตอนใต้
ของยุโรป มีรูปร่างเล็ก ผิวคล้ำ
ผมดำ นัยน์ตาสีฟ้า กระโหลก
ศีรษะกลมเช่น ประเทศกรีซ
สเปน อิตาลี เป็นต้น



3.กลุ่มแอลโพนั เป็นกลุ่มคนผิวขาวในยุโรปตะวันออก
และยุโรปกลาง มีรูปร่างเตี้ย ลำ คมสั้น้ำตาล กะโหลกศีรษะ
กลม เช่นบริเวณภาคกลางของประเทศเยอรมนี ฝรั่งเศส และ
ประเทศรัสเซียบางส่วน



ลักษณะทางสังคมวัฒนธรรมของทวีปยุโรป

1. เป็นสังคมที่มีความเจริญก้าวหน้าทางด้านวิทยาการต่าง ๆ มาก
2. เป็นสังคมเมืองมากกว่าชนบท มีลักษณะเป็นครอบครัวเดี่ยว
3. มีความผูกพันกับเครือญาติไม่มากนัก ไม่แน่นแฟ้นเหมือน

สังคมไทย

4. เป็นสังคมที่มีระเบียบวินัยเคร่งครัด รักประชาธิปไตย รักความเป็นอิสระ รักเสรีภาพ ขยันขันแข็ง ในการทำงาน เน้นการช่วยเหลือตนเองให้มากที่สุด มีความเป็นตัวของตัวเอง

ด้านศาสนา

ชาวยุโรปส่วนใหญ่นับถือศาสนาคริสต์ ซึ่งแบ่งออกเป็น 3 นิกาย

1. โรมันคาทอลิก เป็นศาสนาของผู้ใช้ภาษาละติน เช่นในเบลเยียม

ฝรั่งเศส โปรตุเกส อิตาลี ออสเตรีย สโลวัก เช็ก และโปแลนด์

2. กรีกออร์ทอดอกซ์ นับถือศาสนาในกรีซ และยูโกสลาเวีย

3. โปรเตสแตนต์ นับถือกันใน สแกนดิเนเวีย เอสโทเนีย แลตเวีย

เนเธอร์แลนด์สหราชอาณาจักร



ด้านภาษา อินโด-ยูโรเปียน ซึ่งแบ่งเป็น 3 กลุ่มคือ

1. กลุ่มภาษาเยอรมานิก (ติว-tonic) ใช้กันในกลุ่มสแกนดิเนเวีย เนเธอร์แลนด์ เยอรมนี ออสเตรีย ไอร์แลนด์ สหราชอาณาจักร และ บางส่วนของสวิตเซอร์แลนด์ เบลเยียม

2. กลุ่มภาษาโรมานซ์ หรือกลุ่มภาษาละติน ใช้กันใน อิตาลี สเปน ฝรั่งเศส โปรตุเกส และโรมาเนีย

3. กลุ่มภาษาสลาวิก (สลาฟ) ใช้กันในภาคกลางและภาคตะวันออก ของยุโรป ในคาบสมุทรบอลข่าน และสหพันธรัฐรัสเซีย

ลักษณะทางเศรษฐกิจของทวีปยุโรป

เนื่องจากทวีปยุโรปเป็นทวีปที่มีความอุดมสมบูรณ์ของทรัพยากรธรรมชาติและสิ่งแวดล้อม มีประชากรที่มีคุณภาพ ส่งผลให้ทวีปยุโรปเป็นทวีปที่มีความสำคัญทางเศรษฐกิจแห่งหนึ่งของโลก

กิจกรรมทางเศรษฐกิจที่สำคัญ ได้แก่

- 1. การเพาะปลูก** เขตเพาะปลูกอยู่ในยุโรปตะวันตก ภาคตะวันออกเฉียงเหนือและภาคใต้ของอังกฤษ ภาคเหนือและภาคตะวันตกของฝรั่งเศส ตอนเหนือของเยอรมนี ยูเครน

พืชที่สำคัญคือ

ข้าวสาลี ปลูกได้มากที่สุดคือ ยูเครน รองลงไปคือ ฝรั่งเศส
อิตาลี สเปน โรมาเนีย บัลแกเรีย เยอรมนี อังการี

ข้าวโอ๊ต ข้าวบาร์เลย์ ข้าวไรย์ ถั่ว มันฝรั่ง ปลูกได้โดยทั่วไป

องุ่น ส้ม มะกอก มะนาว แอปเปิลและผลไม้ชนิดต่างๆ ปลูก

ได้มากเขตอากาศแบบเมดิเตอร์เรเนียน

ได้แก่ ประเทศอิตาลี ฝรั่งเศส สเปน กรีซ



2. การเลี้ยงสัตว์ เลี้ยงไปตามลักษณะภูมิประเทศและภูมิอากาศ

เขตทุนดรา มีการเลี้ยงกวางเรนเดียร์

เขตทุ่งหญ้าสเตปป์ มีการเลี้ยงโคเนื้อ แพะ แกะ ม้า

เขตเมดิเตอร์เรเนียน มีการเลี้ยงโคเนื้อ และแกะ

เขตภูเขาสูง และที่ราบสูง มีการเลี้ยงโคเนื้อ โคนม แกะ

เขตอบอุ่นชื้นตอนเหนือของคาบสมุทรบอลข่าน มีการ
เลี้ยงสุกรด้วยข้าวโพด

เขตภาคพื้นสมุทรชายฝั่งตะวันตก มีการทำฟาร์มโคนม

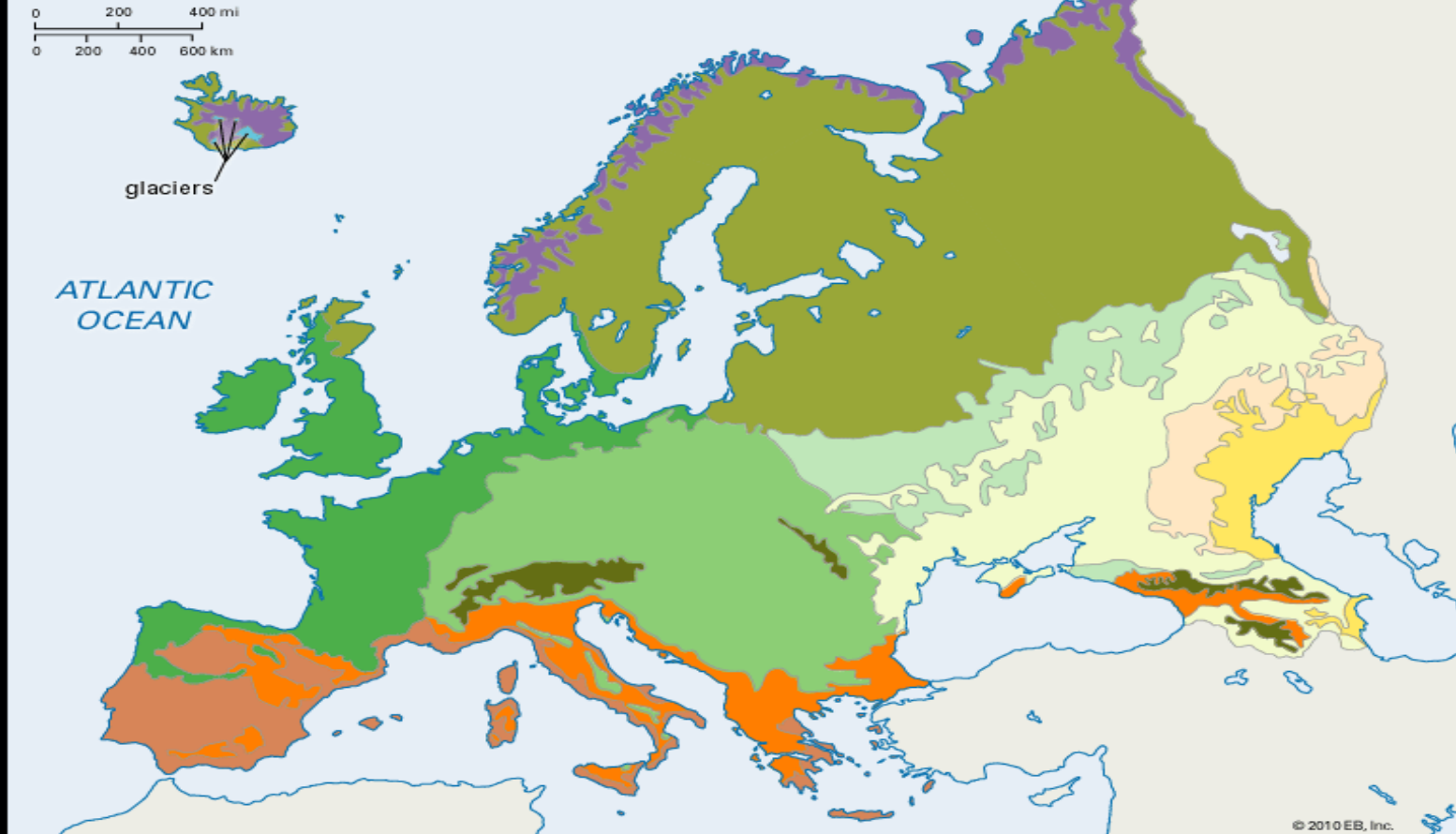
3. การทำป่าไม้ พบมากในประเทศฟินแลนด์ สวีเดน
รัสเซีย นอร์เวย์ ในบริเวณป่าสน ซึ่งเป็นไม้เนื้ออ่อน นำมาผลิต
เป็นเยื่อกระดาษ

4. การประมง แหล่งประมงที่สำคัญ ได้แก่ ทะเลเหนือ
โดยเฉพาะบริเวณที่กระแสน้ำอุ่นแอตแลนติกเหนือบรรจบกับ
กระแสน้ำเย็นกรีนแลนด์ตะวันออก เกิดเป็นแหล่งที่มีปลาชุกชุม
มากแห่งหนึ่งของโลกเรียกว่า ดอกเกอร์แบงก์ ประเทศที่จับปลา
ได้มาก สหราชอาณาจักร ไอร์แลนด์

0 200 400 mi
0 200 400 600 km



ATLANTIC
OCEAN



© 2010 EB, Inc.



Semidesert



Grass steppe



Shrub (wooded)
steppe




Tundra



Boreal forest



Mountain forest
and Alpine meadow



Mediterranean
scrubland



Mediterranean
forest

Mixed forest



Atlantic



Central



Eastern



5. การทำเหมืองแร่ ยุโรปเป็นทวีปที่มีแร่เหล็กและถ่านหิน

อุดมสมบูรณ์

- ถ่านหิน แหล่งสำคัญอยู่ทางภาคเหนือของสหราชอาณาจักร ภาคกลางของเบลเยียม ลุ่มแม่น้ำรูห์ของเยอรมนี ภาคใต้ของโปแลนด์ ภาคเหนือของเช็ก สโลวัก ยูเครน ไซบีเรียของรัสเซีย
- เหล็ก แหล่งสำคัญคือ แหล่งคิรูนาและเยลิวาร์ทางตอนเหนือของสวีเดน /แหล่งคริวอยร็อกในยูเครน/แหล่งลอเรนซ์ทางตะวันออกเฉียงใต้ของฝรั่งเศส

Political Map of Europe

YourEuropeMap.com
is sponsored by
pocket-talk.org
Your Free Travel Dictionary!



– น้ำมันดิบและก๊าซธรรมชาติ แหล่งสำคัญของยุโรปอยู่ใน
บริเวณทะเลเหนือ และรอบๆทะเลสาบแคสเปียน

– บอกลีเซียม เมื่อนำมาถลุงแล้วได้อะลูมิเนียม แหล่งผลิตสำคัญ
อยู่ทางภาคใต้ของฝรั่งเศส ยูโกสลาเวีย ฮังการี เทือกเขาอูราลใน
รัสเซีย

– โพแทช ใช้ในอุตสาหกรรมปุ๋ยและสบู่ แหล่งผลิตอยู่ใน
ประเทศฝรั่งเศส เยอรมนี สเปน รัสเซีย

6. อุตสาหกรรม ยุโรปได้ชื่อว่าเป็นทวีปอุตสาหกรรม

เพราะเกือบทุกประเทศมีประชากรผู้ใช้แรงงานส่วนใหญ่
อยู่ในภาคอุตสาหกรรม แหล่งอุตสาหกรรมส่วนใหญ่อยู่ใน
ยุโรปตะวันตก เช่น สหราชอาณาจักร ฝรั่งเศส เยอรมนี
เนเธอร์แลนด์ ส่วนยุโรปตะวันออกอยู่ใน รัสเซีย ยูเครน
เบลารุส

7. พาณิชยกรรม เนื่องจากยุโรปความเจริญก้าวหน้าทางอุตสาหกรรมและเทคโนโลยี ทำให้ยุโรปมีการติดต่อค้าขายกับภูมิภาคอื่นและมีการตั้งกลุ่มทางเศรษฐกิจระหว่างประเทศ เช่น สหภาพยุโรป (EU-European Union) สมาคมการค้าเสรีแห่งยุโรป (EFTA-European Free Trade Association) ตลาดการค้าขายระหว่างประเทศ ได้แก่ ประเทศต่างๆที่อยู่ในยุโรปและประเทศอเมริกาเหนือ

EUROPE

- EUROPEAN UNION**
- EU Member States
 - EU New Members since 2004
 - EU New Member 2013
 - EU Candidates
 - EFTA Member States



250 Km
250 Mi.

8. การท่องเที่ยว ทวีปยุโรปมีแหล่งท่องเที่ยวทางธรรมชาติ และแหล่งท่องเที่ยวทางวัฒนธรรมอยู่หลายแห่ง ประกอบกับมี ภูมิอากาศที่อบอุ่นสบาย จึงเป็นสิ่งดึงดูดให้นักท่องเที่ยวเดินทางเข้ามาปีละมากๆ แหล่งท่องเที่ยวทางธรรมชาติที่สำคัญ เช่น

- พระอาทิตย์เที่ยงคืนที่ประเทศนอร์เวย์
- ภูมิประเทศเทือกเขาแอลป์ในประเทศสวิตเซอร์แลนด์

ออสเตรเลีย ฝรั่งเศส



22.30

0.00



Summer Solstice: June 21/22 TOP VIEW (above the North Ecliptic Pole)



1.30

3.00

แหล่งท่องเที่ยวทางวัฒนธรรม เช่น หอไอเฟลในกรุง
ปารีส ประเทศฝรั่งเศส พิพิธภัณฑ์ ปราสาท และอาคารสถานที่
ทางประวัติศาสตร์ในประเทศสหราชอาณาจักร ฝรั่งเศส
เยอรมนี อิตาลี กรีซ สวีเดน





เทือกเขาแอลป์
ประเทศ
สวิตเซอร์แลนด์



9. การคมนาคมขนส่ง ยุโรปเป็นทวีปที่มีการคมนาคมขนส่ง

เจริญก้าวหน้ามาก

– **ทางรถยนต์** มีทางหลวงเชื่อมระหว่างเมือง เขตอุตสาหกรรมและประเทศต่างๆ มีระยะทางยาวประมาณ 1 ใน 5 ของทางรถยนต์ของโลก

– **ทางรถไฟ** ทวีปยุโรปมีทางรถไฟยาว 1 ใน 3 ของทางรถไฟในโลก ประเทศที่มีทางรถไฟยาวเมื่อเฉลี่ยต่อเนื้อที่แล้วมากที่สุด คือ เบลเยียม รองลงมาคือ สหราชอาณาจักร สวิตเซอร์แลนด์ เมืองที่เป็นศูนย์กลางการคมนาคมทางรถไฟคือ ปารีส ลอนดอน เบอร์ลิน วอร์ซอ มอสโก

– **ทางอากาศ** แต่ละประเทศต่างก็มีสายการบินเป็นของตนเอง ใช้ติดต่อระหว่างเมืองภายในประเทศ ระหว่างประเทศ และระหว่างทวีป ศูนย์กลางการบินส่วนใหญ่เป็นเมืองหลวงของแต่ละประเทศ



– **ทางน้ำ** แม่น้ำสำคัญที่ใช้ในการคมนาคมขนส่ง

ภายในประเทศและระหว่างประเทศ ได้แก่ แม่น้ำไรน์ แม่น้ำเซน
แม่น้ำดานูบ แม่น้ำโวลกา แม่น้ำโอเดอร์ และมีการขุดคลองเพื่อ
การคมนาคม เช่น คลองคีล ในเยอรมนี เชื่อมระหว่างทะเลบอล
ติกกับทะเลเหนือ คลองมีดีในฝรั่งเศสเชื่อมทะเลเมดิเตอร์เร
เนียนกับมหาสมุทรแอตแลนติก

ปัญหาสิ่งแวดล้อมในทวีปยุโรป

สภาพอากาศแปรปรวนผิดปกติ

สาเหตุ : การปล่อยแก๊สเรือนกระจกจากกิจกรรมต่างๆ
ของมนุษย์

ผลกระทบ

- ทำให้สภาพอากาศแปรปรวน เกิดวาตภัยและอุทกภัยร้ายแรง
- ทำให้น้ำแข็งขั้วโลกละลาย ระดับน้ำทะเลสูงขึ้น และเกิดน้ำ

ท่วมพื้นที่ชายฝั่งในหลายประเทศ



ไฟป่า

สาเหตุ : มีอุณหภูมิสูงและมีอากาศแห้งแล้งมากในช่วงฤดูร้อน โดยเฉพาะในยุโรปตอนใต้

ผลกระทบ

- เกิดการสูญเสียชีวิต ทรัพย์สิน ป่าไม้ และสิ่งแวดล้อม
- เกิดหมอกควันปกคลุมเป็นบริเวณกว้าง ส่งผลต่อสุขภาพของประชากร และการขนส่งทางอากาศ

มลพิษทางอากาศ

สาเหตุ : การปล่อยควันของโรงงานอุตสาหกรรม โรงงานไฟฟ้าที่ใช้พลังงานถ่านหิน และยานพาหนะที่ใช้เชื้อเพลิงฟอสซิล

ผลกระทบ

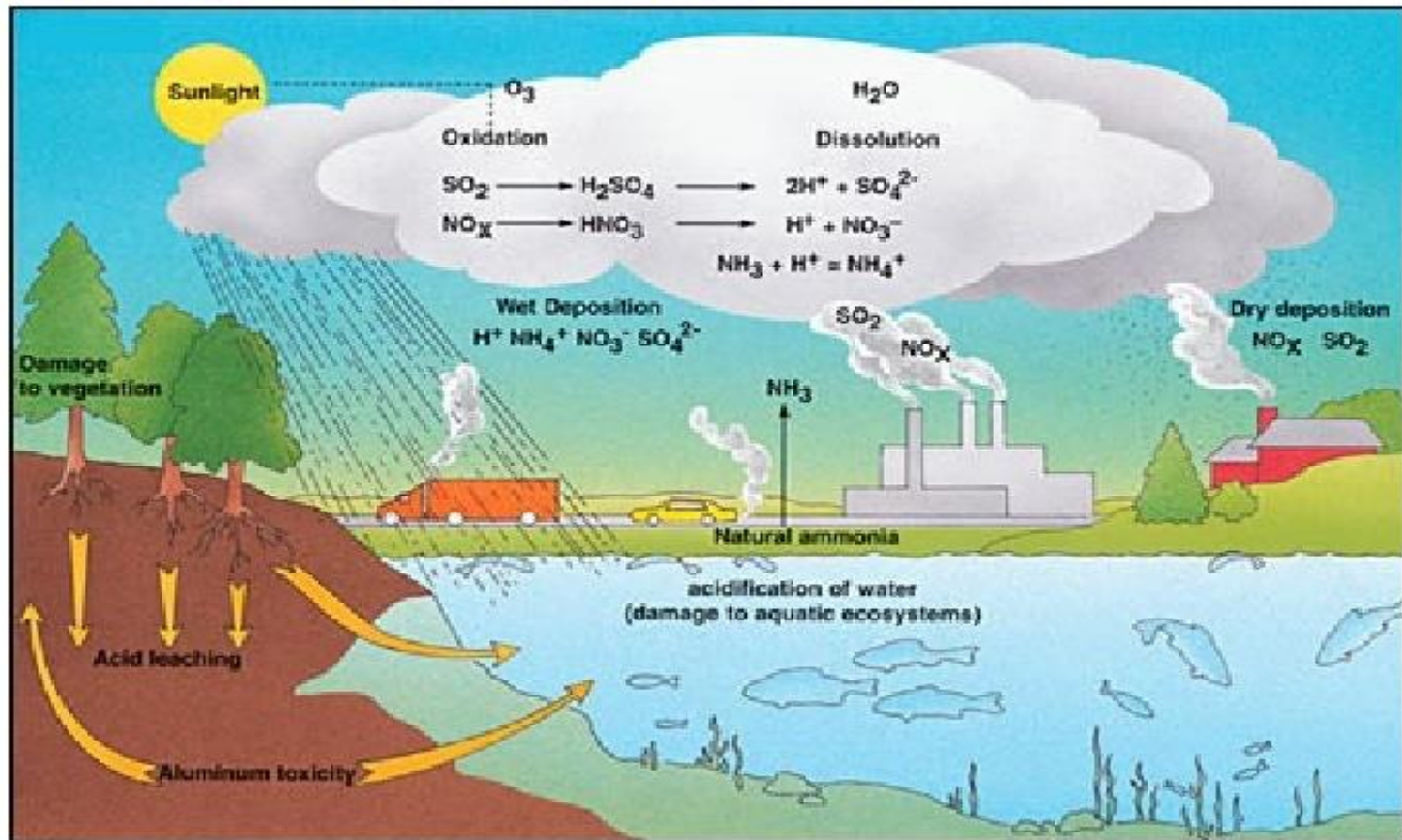
- ทำให้ประชากรป่วยเป็นโรคภูมิแพ้และโรคทางเดินหายใจ

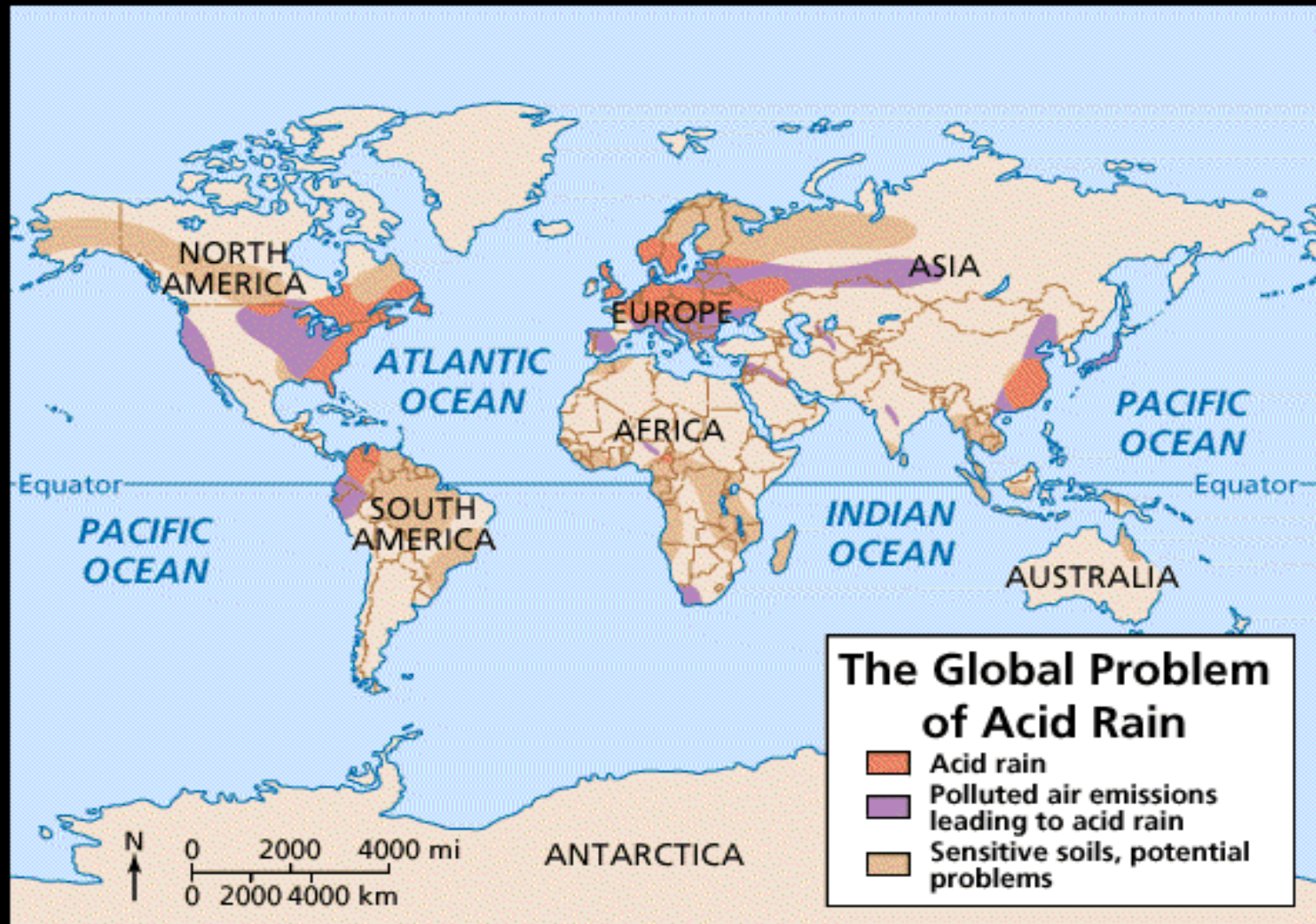
เพิ่มขึ้น

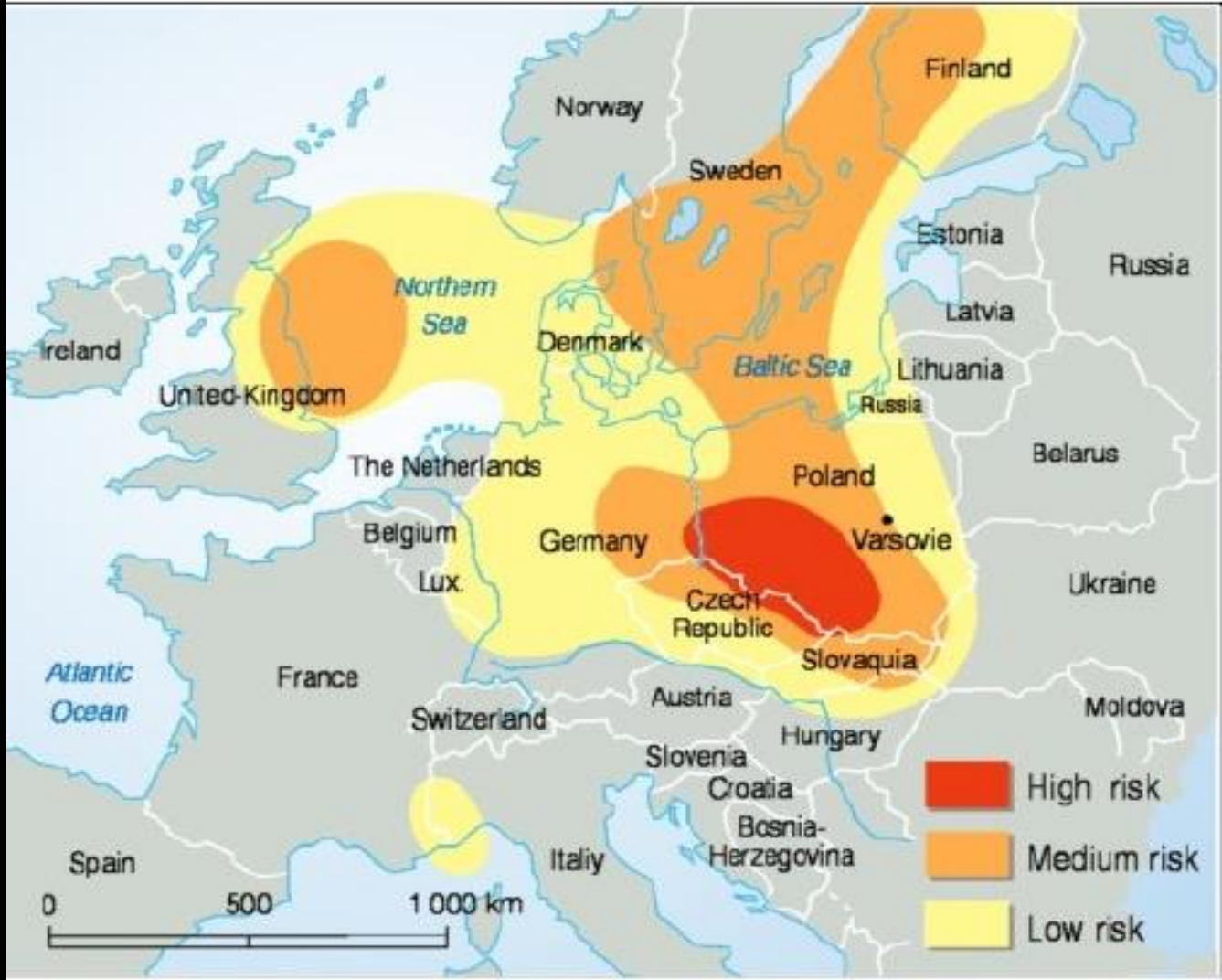
- ทำให้เกิดฝนกรด



The Formation of Acid Rain







ขยะและสิ่งปฏิกูล

สาเหตุ : อัตราการอุปโภคและบริโภคสินค้าชนิดต่างๆ

ของชาวยุโรปสูงขึ้น

ผลกระทบ

- ขยะอิเล็กทรอนิกส์ ซึ่งมีสารพิษบางชนิดผสมอยู่ก่อให้เกิด

อันตรายต่อร่างกายและชีวิต

- ก่อให้เกิดปัญหาสิ่งแวดล้อมอื่นๆ ตามมา เช่น น้ำเน่าเสีย

คว้นพิษจากการเผาขยะ เป็นต้น

ข้อ 1 บริเวณใดในทวีปยุโรปที่มีป่าไม้อุดมสมบูรณ์

1. บริเวณแนวเทือกเขาสูงทางตอนใต้
2. พื้นที่รอบทะเลเมดิเตอร์เรเนียน
3. คาบสมุทรสแกนดิเนเวียและทางตะวันออก
4. พื้นที่ทางเหนือของทวีปและเกาะอังกฤษ

ข้อ 2 พื้นที่ในข้อใดที่เหมาะสมต่อการทำไร่่องุ่นในทวีปยุโรป

1. คาบสมุทรอิตาลี
2. คาบสแกนดิเนเวีย
3. หมู่เกาะบริติช
4. บริเวณแม่น้ำวอลกา



Iceland

Norwegian Sea

Atlantic Ocean

Ben Nevis 1343

British Isles

North Sea

Galdhøpiggen 2469

Scandinavian Mts.

Scandinavia

Kola Peninsula

Saimaa

Lake Onega

Lake Ladoga

Lake Peipus

Vänern

Baltic Sea

Jutland

East European Plain

Ural Mountains

Ural

North European Plain

Rhine

Elbe

Oder

Daugava

Dnieper

Don

Volga

Podolian Upland

Dniester

Sea of Azov

Bay of Biscay

Mont Blanc 4807

Alps

Po

Carpathians

Danube

Crimean Peninsula

Moldoveanu 2544

Caucasus

Elbrus 5642

Black Sea

Caspian Sea

Iberian Peninsula

Mulhacén 3479

Alboran Sea

Pyrenees

Ligurian Sea

Apennines

Adriatic Sea

Tyrrhenian Sea

Ionian Sea

Balkans

Aegean Sea

WWW.FREEWORLDMAPS.NET

Etna 3322

ข้อ 3 ข้อใดแสดงลักษณะทางสังคมและวัฒนธรรมของ
ประเทศในทวีปยุโรปได้ถูกต้อง

1. ใช้ภาษาฝรั่งเศสเป็นภาษากลาง
2. เป็นสังคมชนบทมากกว่าสังคมเมือง
3. นับถือนิกายโปรเตสแตนต์เป็นส่วนใหญ่
4. มีอัตราประชากรเพิ่มในระดับต่ำ

ข้อ 4 ข้อใดกล่าวได้ถูกต้องเกี่ยวกับทวีปยุโรป

1. ประชากรของยุโรปมีการเปลี่ยนแปลงเพิ่มมากขึ้นทุกปี
2. บริเวณแม่น้ำสายสำคัญเป็นแหล่งชุมชนมาตั้งแต่อดีต
3. บริเวณเทือกเขาสูงเป็นภูมิประเทศที่เหมาะสมแก่การตั้งถิ่นฐาน
4. ทางตอนเหนือของทวีปยุโรปมีประชากรหนาแน่น

ข้อ 5 ปัจจัยข้อใดที่ทำให้การทำประมงของทวีปยุโรปได้ปริมาณมาก

1. สภาพภูมิประเทศ แรงงาน
2. ความชำนาญ เทคโนโลยี
3. การวางแผน ความชำนาญ
4. สภาพภูมิประเทศ เทคโนโลยี

ข้อ 6 ปัจจัยข้อใดที่ทำให้เศรษฐกิจของทวีปยุโรปมีความเจริญก้าวหน้าและมั่นคง

1. ประชากรมีคุณภาพ
2. ทรัพยากรอุดมสมบูรณ์
3. รัฐบาลมีความมั่นคง
4. เทคโนโลยีที่ทันสมัย

ข้อ 7 เพราะเหตุใดในบริเวณทางตอนเหนือสุดของทวีปยุโรปจึงมีประชากรอาศัยอยู่เบาบาง

1. เป็นป่าดิบชื้น
2. อยู่ใกล้ทะเลมหาสมุทร
3. มีแนวเทือกเขาซับซ้อน
4. มีภูมิอากาศหนาวเย็นจัด

ข้อ 8 ปัจจัยใดที่ส่งผลให้เกิดการเปลี่ยนแปลงสิ่งแวดล้อมทางสังคมข้อใด

1. ละติจูด ลองจิจูด ขนาดพื้นที่
2. สภาพภูมิอากาศ การขยายตัวของเมือง
3. คลื่นความร้อน ลักษณะภูมิประเทศ
4. ประชากร แรงงาน ค่าจ้าง

ข้อ 9 ข้อใดกล่าวไม่ถูกต้องเกี่ยวกับปัญหาสิ่งแวดล้อมของทวีปยุโรป

1. สภาพอากาศแปรปรวนส่งผลให้เกิดอากาศหนาวจัด
2. สภาวะโลกร้อนส่งผลให้ภูมิอากาศเปลี่ยนแปลงได้
3. ความแห้งแล้งและอากาศร้อนส่งผลให้เกิดไฟป่า
4. ฝนกรดเป็นปรากฏการณ์ธรรมชาติที่ช่วยให้น้ำไม่ขุ่น

ข้อ 10 ข้อความในข้อใดต่อไปนี้อีกกล่าวเกี่ยวกับทวีปยุโรป

ไม่ถูกต้อง

1. เขตที่ราบตอนกลางเป็นเกษตรกรรมที่สำคัญ
2. บริเวณที่อากาศหนาวเย็นมีประชากรอยู่เบาบาง
3. ป่าไม้ของประเทศเยอรมนีมีความหนาแน่นมาก
4. ป่าไม้สนมีปลูกมากทางตอนใต้ของทวีป

ข้อ 11 ปัจจัยทางภูมิศาสตร์ในข้อใดส่งผลให้ประเทศฝรั่งเศส สามารถผลิตไวน์คุณภาพดี และเป็นที่ยอมรับและนิยมจากคนทั่วโลก

1. เนื่องจากเป็นบริเวณที่ได้รับลมชื้นจากมหาสมุทร
2. เนื่องจากอยู่ในพื้นที่มีแนวเทือกเขาแอลป์เป็นกำแพงกั้น
3. เนื่องจากมีอยู่ในพื้นที่มีหิมะปกคลุมเกือบตลอดทั้งปี
4. เนื่องจากอยู่ในพื้นที่มีอากาศแบบภูมิอากาศแบบเมดิเตอร์

เรเนี่ยน

ข้อ 12 พื้นที่บริเวณใดของทวีปยุโรปที่จะได้รับผลกระทบ
เนื่องจากระดับน้ำทะเลและมหาสมุทรเพิ่มมากขึ้น

1. อิตาลี กรีซ

2. เนเธอร์แลนด์ นอร์เวย์

3. เยอรมนี อังการี

4. สเปน ออสเตรีย